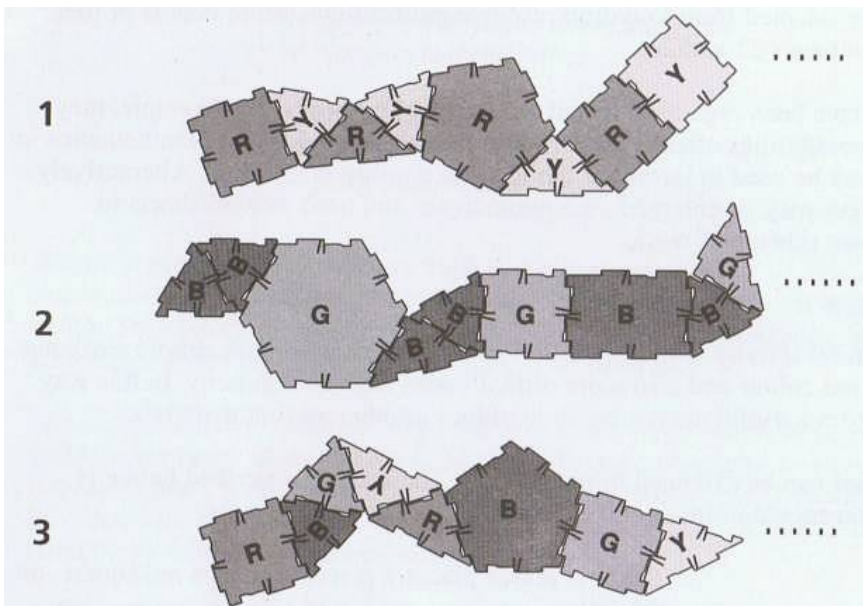
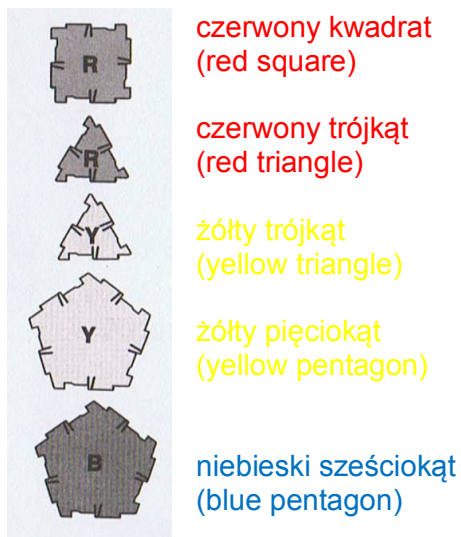


Polydron MIX (155-4145) – karta pracy

Symbole klocków

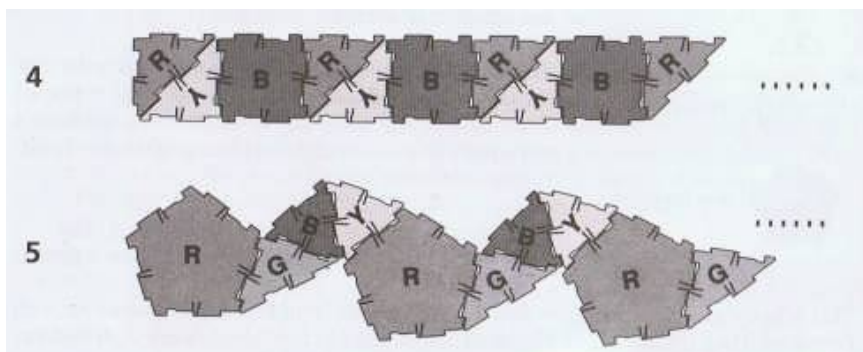
Zadanie 1. Znajdź zasadę, według której ułożono te klocki i kontynuuj ją.



Zadanie 2.

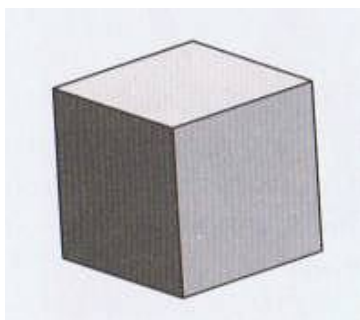
Kontynuuj układanie wzoru według dwóch zasad powtarzania się klocków.

Potrafisz nazwać te zasady?

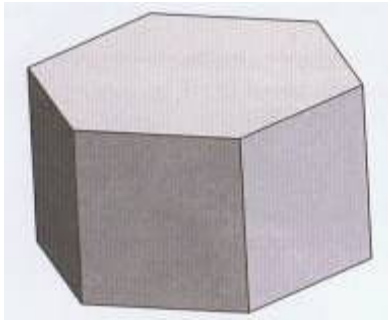


Zadanie 3. Wykonaj te bryły używając:


6 kwadratów



3 sześciokątów i 6 sześciianów

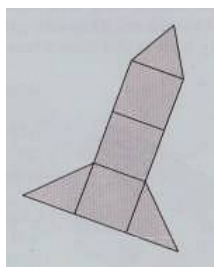


8 trójkątów równobocznych



Zadanie 4.

- Stwórz płaski model rakiety pokazanej obok.
- Czy możesz ją wydłużyć?
- Czy możesz ją poszerzyć?



Zadanie 5.

Masz dany tylko kontur rakiety.

- Czy potrafisz ją wykonać?

